


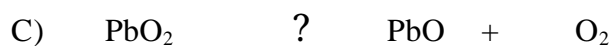

## Esercitazione di Chimica

### Cap.7 Reazioni ed equazioni chimiche

Classe \_\_\_\_\_ Allievo \_\_\_\_\_ Data \_\_\_\_\_  
 \_\_\_\_\_@


**Bilancia le seguenti reazioni chimiche**

Griglia di valutazione:
A) punti 1
B) punti 1
C) punti 1
D) punti 2
E) punti 3



E) Esprimi in grammi le moli delle sostanze (reagenti e prodotti di reazione) rappresentate dalla seguente

equazione:


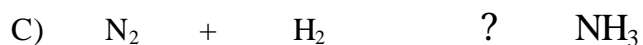
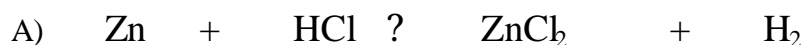


## Esercitazione di Chimica

### Cap.7 Reazioni ed equazioni chimiche

Classe \_\_\_\_\_ Allievo \_\_\_\_\_ Data \_\_\_\_\_  
 \_\_\_\_\_ &

**Bilancia le seguenti reazioni chimiche**



<b>Griglia di valutazione:</b>
------------------------------------

A) punti 1
B) punti 1
C) punti 1
D) punti 2
E) punti 3

E) Esprimi in grammi le moli delle sostanze (reagenti e prodotti di reazione) rappresentate dalla seguente

equazione:

